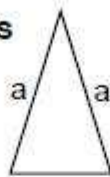
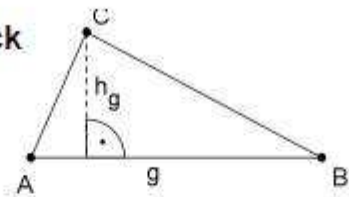


**gleichschenkliges  
Dreieck**



Mindestens zwei Seiten sind  
gleich lang.

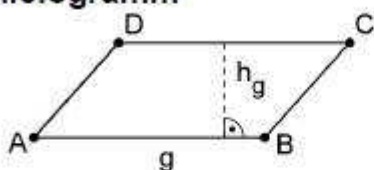
**Dreieck**



Flächeninhalt:

$$A = \frac{1}{2} g \cdot h_g$$

**Parallelogramm**

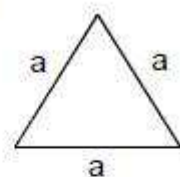


Gegenüberliegende Seiten  
sind jeweils parallel.

Flächeninhalt:

$$A = g \cdot h_g$$

**gleichseitiges  
Dreieck**



Alle drei Seiten sind gleich  
lang.

Flächeninhalt:

$$A = \frac{\sqrt{3}}{4} \cdot a^2$$